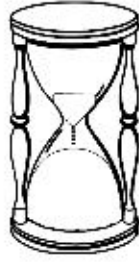
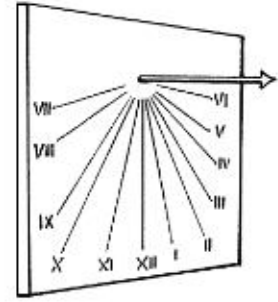


VERIFICA STORIA

1) Riordina numerandoli i diversi strumenti di misurazione del tempo, dal più antico al più moderno e scrivi il loro nome







2) Disegna la lancette mettendole sull'ora indicata sotto:



2.00



6.45



1.30



7.15





5.30



4.25

3) Osserva le immagini e scrivi i nomi delle stagioni





ALUNNO _____ DATA _____ CLASSE _____