


# VERIFICA \_\_\_\_\_

## 1 Scrivi la domanda intermedia nascosta e poi risolvi.

- a) Giovanna ha ricevuto in regalo una scatola con 1000 perline colorate. Confeziona 4 collane utilizzando per ciascuna 150 perline.  
Quante perline restano?



|  |  |  |  |  |  |  |  |  |  |
|--|--|--|--|--|--|--|--|--|--|
|  |  |  |  |  |  |  |  |  |  |
|  |  |  |  |  |  |  |  |  |  |
|  |  |  |  |  |  |  |  |  |  |
|  |  |  |  |  |  |  |  |  |  |
|  |  |  |  |  |  |  |  |  |  |

- c) Per la festa del paese Luca va alle giostre con 10 euro in tasca. Fa 3 giri sulla ruota panoramica. Se ogni giro costa 3,29 euro, con quanti euro resta Luca?

|  |  |  |  |  |  |  |  |  |  |
|--|--|--|--|--|--|--|--|--|--|
|  |  |  |  |  |  |  |  |  |  |
|  |  |  |  |  |  |  |  |  |  |
|  |  |  |  |  |  |  |  |  |  |
|  |  |  |  |  |  |  |  |  |  |
|  |  |  |  |  |  |  |  |  |  |

- b) Eugenio e sua sorella sono andati in cartoleria e hanno comperato 14 quaderni a 0,92 euro ciascuno e 5 biro a 0,77 l'una. La mamma aveva dato loro una banconota da 20 euro.  
Quanto riportano di resto?



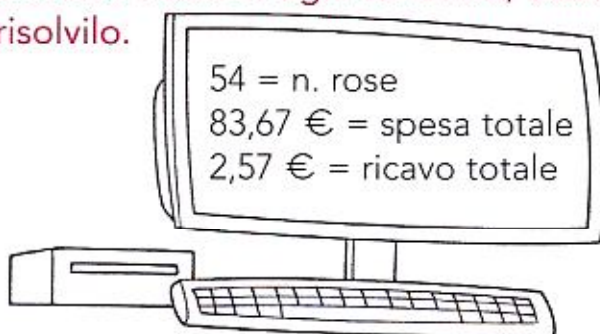
|  |  |  |  |  |  |  |  |  |  |
|--|--|--|--|--|--|--|--|--|--|
|  |  |  |  |  |  |  |  |  |  |
|  |  |  |  |  |  |  |  |  |  |
|  |  |  |  |  |  |  |  |  |  |
|  |  |  |  |  |  |  |  |  |  |
|  |  |  |  |  |  |  |  |  |  |

- d) Per la festa di compleanno di Elisa la mamma prepara 50 pizzette, 25 tramezzini, 12 toast e 18 panini al prosciutto. Vengono sistemati in vassoi che ne contengono 15 ciascuno.  
Quanti vassoi occorrono?

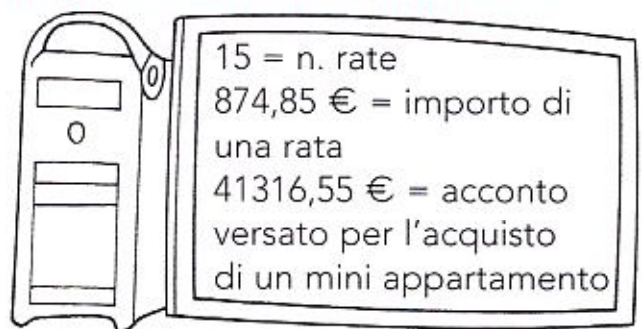


|  |  |  |  |  |  |  |  |  |  |
|--|--|--|--|--|--|--|--|--|--|
|  |  |  |  |  |  |  |  |  |  |
|  |  |  |  |  |  |  |  |  |  |
|  |  |  |  |  |  |  |  |  |  |
|  |  |  |  |  |  |  |  |  |  |
|  |  |  |  |  |  |  |  |  |  |

## 2 Osserva i dati in ogni schermo, usati per formulare il testo di un problema e risolvillo.



|  |  |  |  |  |  |  |  |  |  |
|--|--|--|--|--|--|--|--|--|--|
|  |  |  |  |  |  |  |  |  |  |
|  |  |  |  |  |  |  |  |  |  |
|  |  |  |  |  |  |  |  |  |  |
|  |  |  |  |  |  |  |  |  |  |
|  |  |  |  |  |  |  |  |  |  |



|  |  |  |  |  |  |  |  |  |  |
|--|--|--|--|--|--|--|--|--|--|
|  |  |  |  |  |  |  |  |  |  |
|  |  |  |  |  |  |  |  |  |  |
|  |  |  |  |  |  |  |  |  |  |
|  |  |  |  |  |  |  |  |  |  |
|  |  |  |  |  |  |  |  |  |  |