

VERIFICA _____

1 Sotto ad ogni disegno scrivi se raffigura il peso netto, il lordo o la tara.



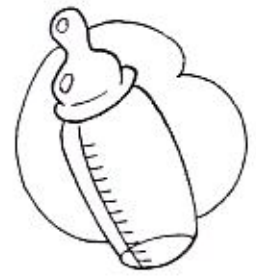
4350 g




350 g



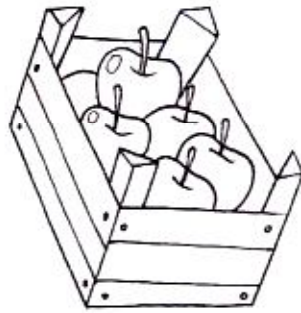
9,420 kg



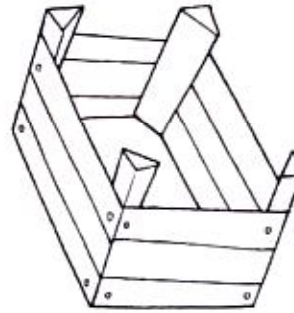
3 hg



10 kg



1800 g

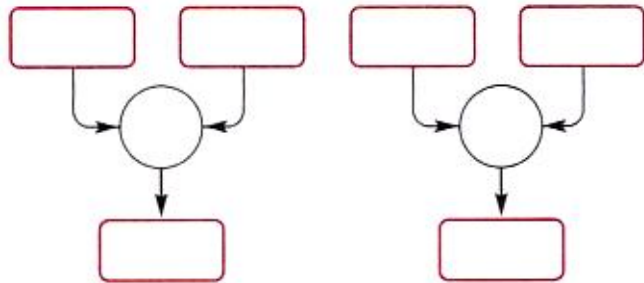


0,8 hg



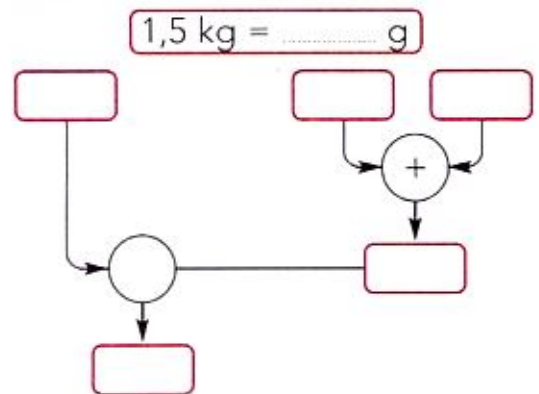
2 Risolvi.

a) Su un ponte possono passare solo veicoli dal peso complessivo di 1000 kg. Arrivano due carri che, vuoti, pesano rispettivamente 284,6 kg e 258,4 kg. Il primo trasporta 784,4 kg di legname ed il secondo 795,6 kg. Quale dei due può transitare sul ponte?



Risposta: _____

b) La mamma ha comprato 1,5 kg di carne. Il macellaio ha pesato la carne insieme a un foglio di carta oleata di 15 g e ad un foglio di carta da pacchi di 25 g. In realtà quanta carne ha ricevuto la mamma?



Risposta: _____