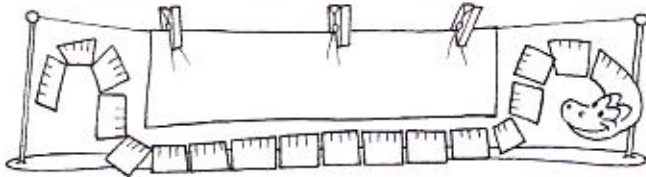


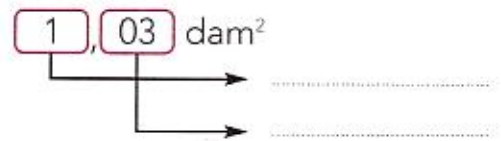
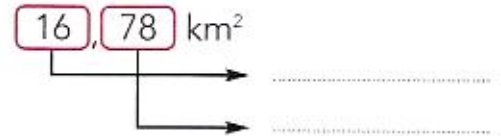
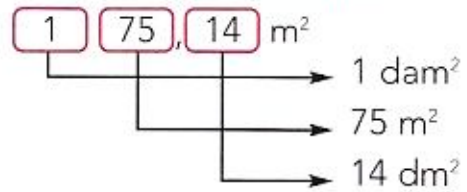
VERIFICA _____

1 Trascrivi le seguenti misure nella tabella:

	Misure minori di 1 m ²	Misure maggiori di 1 m ²
dm ² 720	→	
m ² 0,520	→	
hm ² 0,007	→	
cm ² 4,500	→	
km ² 0,01	→	



2 Indica il valore delle cifre, come nell'esempio.




3 Metti in tabella le seguenti misure.

8,25 m²; 12,43 hm²; 6527 cm²; 56,2 dam²; 11,68 a; 645 ha; 17 ca

km ²		hm ²		dam ²		m ²		dm ²		cm ²		mm ²	
da	u	da	u	da	u	da	u	da	u	da	u	da	u
						8	2	5					

4 Completa.

- 0,25 a = dm²
- 9 ha = dam²
- 510 ca = dam²
- 71,35 ha = m²
- 276 ca = m²
- 8500 ca = dam²



5 Esegui le equivalenze.

- 32 ha = hm²
- 5 a = dam²
- 380 ca = a
- 9,47 ha = a
- 32,5 km² = ha
- 1800 m² = a