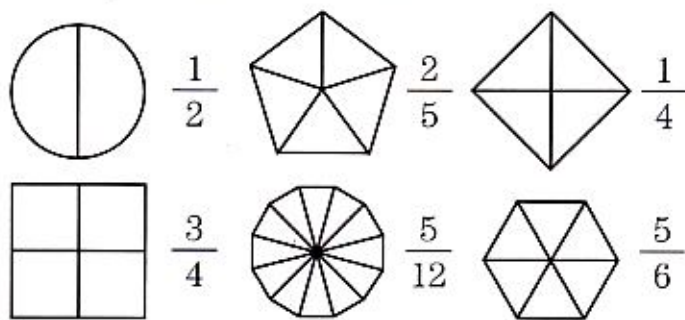
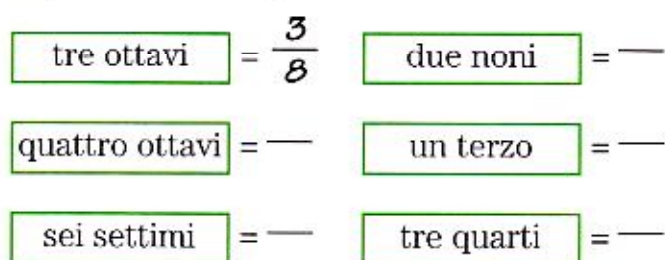


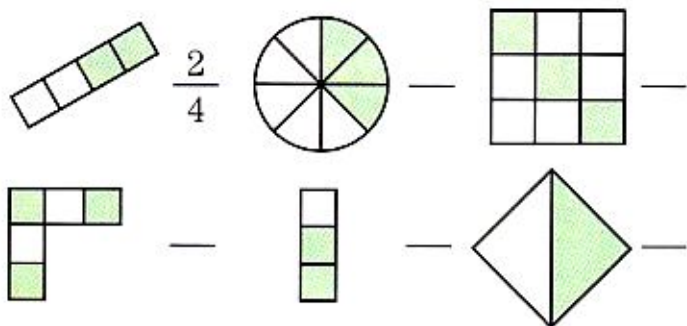
**1** Colora le parti dei disegni corrispondenti alle frazioni:



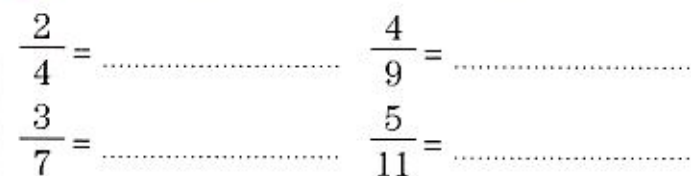
**2** Leggi e scrivi le frazioni in cifre, seguendo l'esempio:



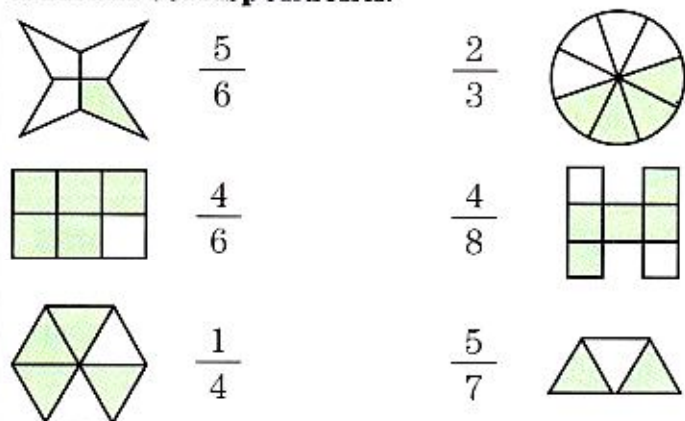
**3** Scrivi le frazioni corrispondenti alle parti colorate:



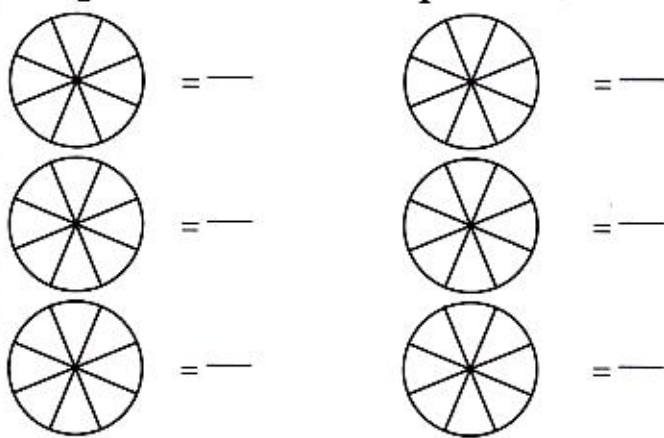
**4** Leggi e scrivi le frazioni in lettere:



**5** Collega con una freccia i disegni alle frazioni corrispondenti:



**6** Colora a piacere i disegni che trovi qui sotto. Scrivi a fianco di ciascun disegno la frazione corrispondente



**7** Preferisci mangiare  $\frac{1}{4}$  o  $\frac{1}{2}$  di una torta? .....  
Perché? .....

**8** Calcola il valore delle seguenti unità frazionarie:

