
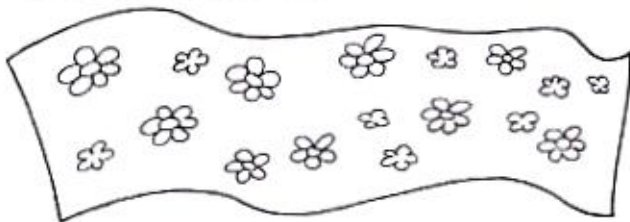



Risolvi.


- a) Lucia ha ricoperto con carta a fiori 6 scatole a forma di cubo, il cui spigolo è di 30,5 cm. Quanti metri quadrati di carta le occorrono?



- b) Quanti metri quadrati di legno occorrono al falegname per costruire 10 cassette alti 20 cm e le cui dimensioni di base sono 95 cm e 50 cm?



- c) La tariffa di un imbianchino per tinggiare un alloggio è € 21 al metro quadrato. Quanto spenderà il signor Giovanni per verniciare le pareti ed il soffitto di due stanze uguali, a forma di parallelepipedo con le dimensioni di base 4 x 3,70 m e l'altezza di 3,70 m?



- d) Uno scatolificio deve confezionare 350 scatole a forma di cubo con lo spigolo di 2,5 m. Qual è la spesa totale se il costo è di € 2 al metro quadrato?

