


1 Completa.



- Ogni faccia del cubo è un poligono di forma
- I lati dei quadrati sono gli del cubo.
- I punti in cui s'incontrano gli spigoli sono i del cubo.
- Ogni cubo ha: facce, spigoli e vertici.

2 Risolvi.

a) Un contenitore per giocattoli a forma di cubo ha lo spigolo di 75 cm. Quale sarà la spesa per ricoprirlo se un m² di stoffa costa 7,74 euro?



b) L'acquario di Matilde ha le seguenti dimensioni: 1,3 m di lunghezza, 0,75 m di larghezza e 0,40 m di profondità. Calcola l'area totale.



3 Quante piastrelle occorrono per ricoprire ogni pavimento?

Dimensioni del pavimento	Piastrella utilizzata	Operazioni	N° piastrelle
		
		
		